






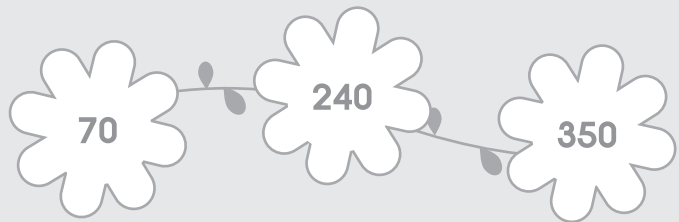

# 2

## จำนวนนับ 100 - 1,000 (ตอนที่ 2)


### 2.1 การเรียงลำดับจำนวน

เรียงลำดับจำนวนจากน้อยที่สุดไปมากที่สุด


ตัวอย่าง



(4) 479 175 93 445



(5) 235 473 237 654




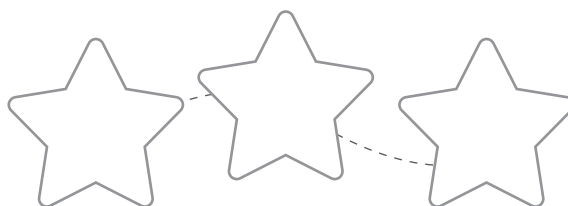
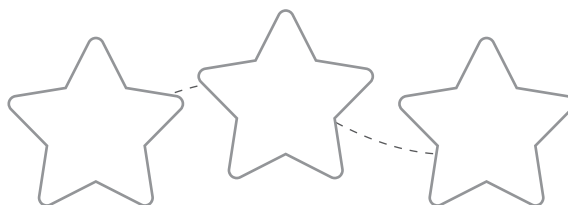
(6) 191 352 108 291 356






# เรียงลำดับจำนวนจากมากที่สุดไปน้อยที่สุด


## ตัวอย่าง




(4)    



(5)     




(6)     





จากตัวเลขที่กำหนด เติมคำตอบลงในช่องว่างให้ถูกต้อง



- (1) จำนวนที่มากที่สุด คือ \_\_\_\_\_
- (2) จำนวนที่น้อยที่สุด คือ \_\_\_\_\_
- (3) เรียงลำดับจำนวนจากน้อยที่สุดไปมากที่สุด  
\_\_\_\_\_
- (4) เรียงลำดับจำนวนจากมากที่สุดไปน้อยที่สุด  
\_\_\_\_\_
- (5) จำนวนที่มากกว่า 397 คือ \_\_\_\_\_
- (6) จำนวนที่น้อยกว่า 397 คือ \_\_\_\_\_
- (7) จำนวนที่มากกว่า 341 แต่น้อยกว่า 397 คือ \_\_\_\_\_

ลากเส้นต่อจุดเรียงลำดับของตัวเลขจากมากที่สุดไปน้อยที่สุด

