



1.2 การเปรียบเทียบจำนวน

วงล้อมรอบคำตอบให้ถูกต้อง

ตัวอย่าง



เท่ากัน / ไม่เท่ากัน

(1)




เท่ากัน / ไม่เท่ากัน

(2)





เท่ากัน / ไม่เท่ากัน

(3)


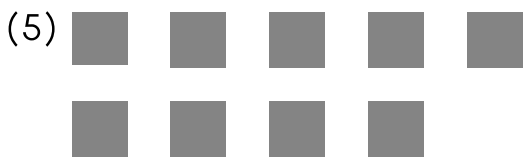


เท่ากัน / ไม่เท่ากัน

(4)



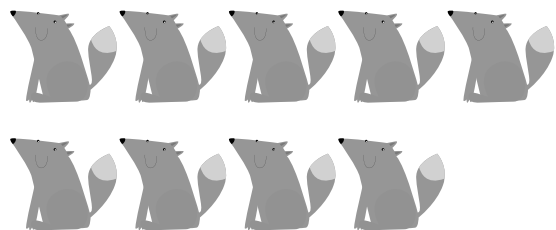
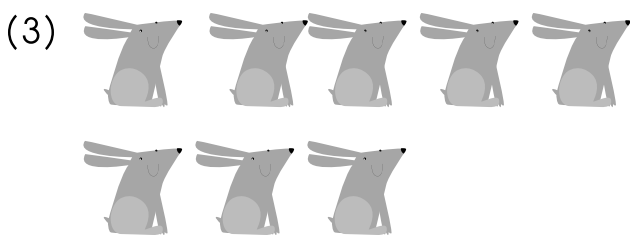




เท่ากัน / ไม่เท่ากัน



เท่ากัน / ไม่เท่ากัน

วงล้อมรอบจำนวนที่มากกว่า





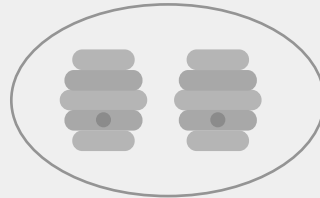

ตัวอย่าง





วงล้อมรอบจำนวนที่น้อยกว่า

ตัวอย่าง


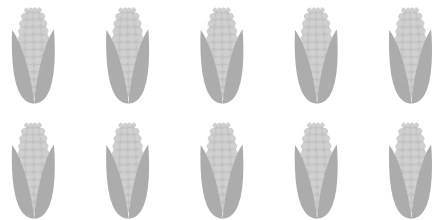

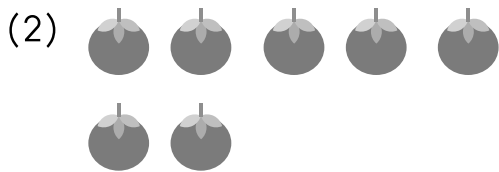
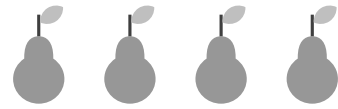
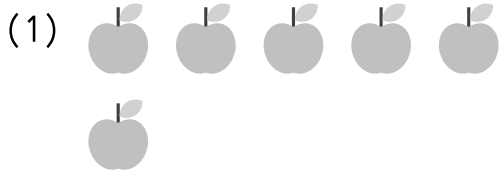


เติมคำว่า "มากกว่า", "น้อยกว่า" หรือ "เท่ากับ" ลงในช่องว่างให้ถูกต้อง

ตัวอย่าง



น้อยกว่า





เติมคำตอบลงในช่องว่างให้ถูกต้อง

ตัวอย่าง

4
7
1
_____ 7 _____ มากที่สุด

(1) 6 5 9 _____ น้อยที่สุด

(2) 9 3 8 _____ มากที่สุด

(3) ๒ ๑ ๗ _____ น้อยที่สุด

(4) ห้า สี่ สิบ _____ น้อยที่สุด