



1

จำนวนนับ 1-10 (ตอนที่ 1)

1.1 จำนวนนับ 1-10

เติมคำตอบลงในช่องว่างให้ถูกต้อง





ตัวอย่าง

2








(1)










(2)



(3)













(4)




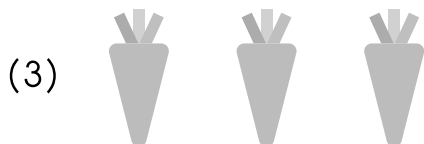


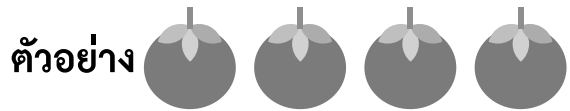
(5)





ลากเส้นจับคู่ให้ถูกต้อง



ลากเส้นจับคู่ให้ถูกต้อง

ตัวอย่าง	0	●	●	หนึ่ง
(1)	3	●	●	เจ็ด
(2)	10	●	●	ศูนย์
(3)	1	●	●	เก้า
(4)	7	●	●	สาม
(5)	2	●	●	สอง
(6)	๔	●	●	แปด
(7)	๙	●	●	สิบ
(8)	๖	●	●	ห้า
(9)	๘	●	●	สี่
(10)	๕	●	●	หก