



วิชา ความถนัดทางการแพทย์

EP.3 เช่าวปัญญา



สถิติความถนัดแพทย์พาร์เชาวน์ปัญญา

	เรื่อง	60	61	62	63	64	65
อนุกรม	อนุกรมตัวเลข	4	2			5	1
	อนุกรมตัวอักษร		1	3			
เช่าวปัญญา	หาตัวที่หายไป ตัวถัดไป	1	2	3		1	
	หาอะไรต่างจากพวก	4		1			
	แปลรหัสรูปภาพ ตัวอักษร	1			1	1	
	วิเคราะห์เงื่อนไข	3	2	3	2	4	5
	ความเพียงพอของข้อมูล			1	2		
	ผังงาน		3	2			
มิติสัมพันธ์	รูปใดต่างจากพวก				3	2	
	หารูปถัดไป	2	3		1	3	
	อุปมาอุปไมยเชิงรูปภาพ	1			2		



สถิติความถนัดแพทย์พาร์เชาวน์ปัญญา

	เรื่อง	60	61	62	63	64	65
คณิตศาสตร์พื้นฐาน	ทิศ			1	1		
	เซต/ตรรกศาสตร์			1	2	1	
	อายุ เวลา		1	2			
	การทำงาน		1	1			
	ความน่าจะเป็น	1		2			1
	สถิติกราฟ	1		1			
	สมการและอสมการ	2	1		4	2	
	เรขาคณิต พื้นที่ปริมาตร	1			2		
	ระยะทางอัตราเร็ว		1				
	ตอบคำถามจากตาราง	2	6	1	11	3	12
	เปอร์เซ็นต์ ร้อยละ อัตราส่วน	2	3		1	2	1

สอบ ทบทวน



อนุกรม

1. (ปี 57) 87 60 37 18 3 -8 ?

1. -9
2. -11
3. -13
4. -15
5. -17



2. (ปี 65) หาก $A \times ก = 12$, $B \times ข = 48$, $C \times ค = 108$ และ $D \times ง = 192$

ข้อใดต่อไปนี้เป็นค่าของ $E \times จ$

1. 284
2. 292
3. 300
4. 308
5. 316

สอบ กาฬสินธุ์



เขาวนปัญญา

3. (ปี 55) มีปลา 4 ชนิด คือ $TUR S$ และนาย $ABCD$ จับปลาคนละชนิดไม่ซ้ำกัน วันที่จับปลาคือจันทร์ถึงพฤหัสบดี A จับปลาชนิด S, C จับปลาชนิด U, R ถูกจับไปก่อน S 1 วัน T ถูกจับวันสุดท้าย และ B จับปลาก่อน C ข้อใดถูกต้อง
1. D จับปลาชนิด T
 2. B จับปลาชนิด T
 3. A จับปลาชนิด R
 4. C จับปลาชนิด R
 5. D จับปลาชนิด U



4. (ปี 65) โรงพยาบาลแห่งหนึ่งต้องการจัดแพทย์อาสา 4 คนลงพื้นที่ช่วยภัยน้ำท่วม โดยมีแพทย์จาก 4 แผนกเสนอตัวคือ แผนกอายุรกรรม(น.พ.วรุฒ และ พ.ญ.สุขศรี) แผนกศัลยกรรม(น.พ.พงษ์พัฒน์ และ น.พ.ปรัชญา) แผนกผิวหนัง(พ.ญ.ปิ่นรวีร์ และ พ.ญ.จิตรลดา) และแผนกกุมารเวชกรรม(พ.ญ.ณัฐฐา และ น.พ.พิรุณ) ซึ่งผู้อำนวยการโรงพยาบาลให้แนวทางการจัดแพทย์อาสาว่าต้องมีแผนกอายุรกรรมและศัลยกรรม โดยมีแพทย์ชายและหญิงในจำนวนเท่ากัน แต่ไม่จำเป็นต้องมีแพทย์ครบทุกแผนก เนื่องจากพ.ญ.จิตรลดาเป็นภรรยาของน.พ.พงษ์พัฒน์ หากไปปฏิบัติจะไปด้วยกันเสมอ ในวันปฏิบัติงาน พบว่า น.พ.ปรัชญาติดผ้าตัดคนไข้ด่วนไม่สามารถไปได้ และแผนกอายุรกรรมแจ้งว่าส่งแพทย์ไปช่วยได้ 1 คน การจัดแพทย์อาสาจะสามารถจัดได้จำนวนกี่รูปแบบ (คำย่อ: น.พ. หมายถึง นายแพทย์ และ พ.ญ. หมายถึง แพทย์หญิง)
1. 2
 2. 3
 3. 4
 4. 5
 5. 6

สอบ พิชิต



มิติสัมพันธ์



5. (ปี 65)



?

1.



2.



3.







4.



5.




6. (ปี 56)




?


1.




2.




3.



4.



5.



สอบ ทบทวน



คณิตศาสตร์พื้นฐาน

7. (ปี 65) ในปี 2020 มีนักเรียนที่ฆ่าตัวตายจากความเครียดด้านการเรียนทั้งสิ้น 25 คน และช่วงระบาดของโควิด-19 ทำให้นักเรียนมีความเครียดเพิ่มขึ้น ส่งผลให้นักเรียนฆ่าตัวตายเพิ่มขึ้น 100 คน จากปีก่อนหน้า ถ้าอัตราการฆ่าตัวตายและเสียชีวิตเพิ่มขึ้นด้วยอัตราคงที่ จงหาว่าในปี 2022 มีนักเรียนฆ่าตัวตายเท่าใด
1. 625
 2. 725
 3. 750
 4. 775
 5. 780



8. ตารางแสดงปริมาณน้ำฝนเฉลี่ยของวันจันทร์ตามภาคต่างๆ ของประเทศไทย หน่วยเป็น มิลลิเมตร (mm)

ภาค เวลา	เหนือ	ใต้	ตะวันออก	ตะวันตก	กทม.
08:00 - 10:00	30.54	80.92	39.54	64.20	39.50
10:00 - 12:00	29.42	90.45	35.62	58.56	30.05
16:00 - 18:00	12.80	86.50	34.38	60.82	28.70
24:00 - 02:00	32.60	92.84	90.44	65.45	30.45

เกณฑ์วัดปริมาณน้ำฝน (หน่วย : มิลลิเมตรต่อชั่วโมง)

- 0.1 - 10.0 mm ฝนตกล็กน้อย 10.1 - 35.0 mm ฝนตกปานกลาง
35.1 - 90.0 mm ฝนตกหนัก > 90 mm ฝนตกหนักมาก

สุขภาพดี



ถ้าเทียบกับปริมาณน้ำฝนในวันอาทิตย์ แล้วกรุงเทพมหานครมีปริมาณน้ำฝนเพิ่มขึ้น 10% ภาคใต้และภาคตะวันออกเฉียงใต้ลดลง 25% ภาคเหนือและภาคตะวันตกเท่าเดิม วันอาทิตย์ กทม. มีฝนตกอยู่ในเกณฑ์ดี

1. ฝนตกเล็กน้อย
2. ฝนตกปานกลาง
3. ฝนตกหนัก
4. ฝนตกค่อนข้างมาก
5. ฝนตกหนักมาก